



B

• Ad-Soyadı: ..... • Sınıf/Şube-Okul No: .....

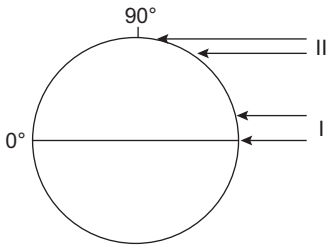
- Cevaplarınızı cevap kâğıdına uygun bir şekilde kodlayınız. Cevap kâğıdının ilgili alanına kodlanmayıp soru kâğıdı üzerine yapılan işaretlemeler değerlendirmeye alınmayacaktır.
- Her soru 5 (beş) puan değerindedir.
- Yanlış cevaplar puanlamayı etkilemeyecektir.

1. I. Yeryüzü şekillerini gerçeğe en yakın gösteren yöntemdir.  
II. Yeryüzü şekillerinin gösterilmesinde kullanılan en yaygın yöntemdir.  
III. Yeryüzü şekillerine ait yükselti basamaklarının renklerle gösterildiği yöntemdir.

Yer şekillerinin gösteriminde kullanılan bu yöntemler hangisinde doğru eşleştirilmiştir?

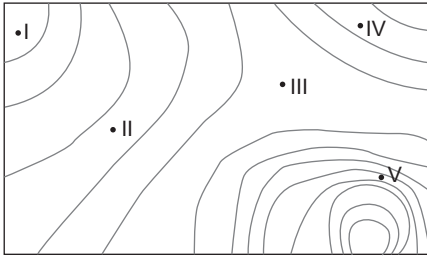
	I	II	III
A)	İzohips	Renklendirme	Kabartma
B)	Kabartma	İzohips	Renklendirme
C)	Renklendirme	Kabartma	İzohips
D)	İzohips	Kabartma	Renklendirme
E)	Kabartma	Renklendirme	İzohips

2.



Yukarıdaki şekle göre Güneş ışığının I ve II. bölgede, geniş ya da dar bir alanı etkilemesinin temel nedeni nedir?

- A) Yörüngenin şekli  
B) Dünya'nın şekli  
C) Çizgisel hızın Ekvator'da daha fazla olması  
D) Atmosferin Ekvator'da kalın, kutuplarda ince olması  
E) Sıcaklığın kutuplara doğru gidildikçe azalması
3. Aşağıda sert karasal iklim bölgesindeki bir yerin topoğrafya haritası verilmiştir.



Bu haritaya bakıldığında verilen noktaların hangisinde çığ oluşma ihtimali diğerlerine göre daha fazladır?

- A) I B) II C) III D) IV E) V

4. Düzlem projeksiyon ile çizilen haritalarda, düzlemin teğet geçtiği kutuplarda bozulma en az iken Ekvator'a doğru gidildikçe bozulma oranı artar.

Düzlem projeksiyon ile çizilen bir haritada aşağıdaki ülkelerden hangisinde bozulma en az olur?

- A) Mısır B) İspanya C) Türkiye  
D) Brezilya E) Kanada

5.



Haritada numaralandırılarak verilen yerlerden hangisinde 21 Aralık tarihinde gece süresi daha uzundur?

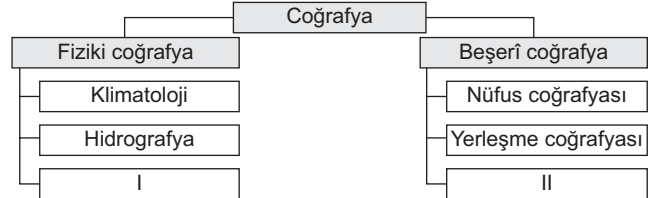
- A) I B) II C) III D) IV E) V

6. Haritaların çiziminde uzaklık, alan ya da açılarda bozulmalar meydana gelir.

Belirtilen bozulmaların yaşanmasının temel nedeni aşağıdakilerden hangisidir?

- A) En büyük paralelin Ekvator olması  
B) Çizim yöntemlerinin yanlış seçilmesi  
C) Kara ve denizlerin düzensiz dağılması  
D) Dünya'nın şeklinin küresel olması  
E) Meridyenlerin kutuplarda birleşmesi

7. Aşağıda coğrafyanın bölünmesine ilişkin bir şema örneği verilmiştir.



Bu şemada I ve II ile gösterilen yerlere sırasıyla hangileri getirilmelidir?

	I	II
A)	Tarihî coğrafya	Jeomorfoloji
B)	Ekonomik coğrafya	Kartografya
C)	Jeomorfoloji	Siyasi coğrafya
D)	Ekonomik coğrafya	Biyocoğrafya
E)	Siyasi coğrafya	Ekonomik coğrafya

8. Aşağıdakilerden hangisi Türkiye'nin mutlak konumunun sonuçlarından değildir?

- A) İstanbul ve Çanakkale boğazlarına sahip olması  
B) Kuzey yarım kürede yer alması  
C) Doğusuyla batısı arasında 76 dakika fark olması  
D) Dört mevsimin belirgin olması  
E) Temmuz ayında yaz mevsiminin yaşanması





2023-2024 EĞİTİM-ÖĞRETİM YILI  
COĞRAFYA DERSİ  
KONYA İL GENELİ 9. SINIF 1. DÖNEM 2. ORTAK YAZILI SINAVI  
(MAZERET SINAVI)



**B**  
**GRUBU**

**CEVAP ANAHTARI**

Coğrafya	
1	B
2	B
3	E
4	E
5	A
6	D
7	C
8	A
9	B
10	A
11	C
12	A
13	B
14	E
15	C
16	B
17	D
18	E
19	D
20	A